

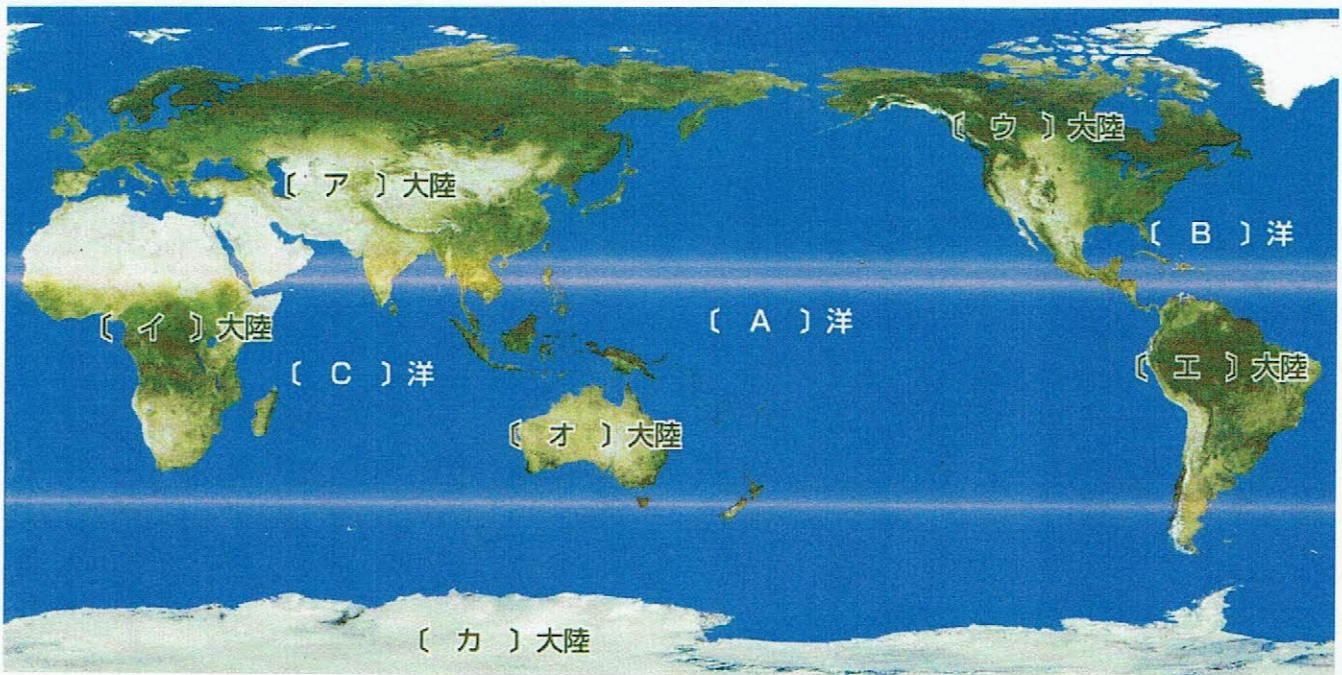
# 【地理 1】 世界の姿①

名前



次の各問題の問の答えや ( ) にあてはまる語句を答えなさい。

問題	解答
1 地球を縮めたもので、地球の形をほぼ正確に表している模型を何といいますか。	
2 北極点と南極点を結んだ線を何といいますか。	
3 問題2の線の基準となる0度の線を何といいますか。	
4 問題3の線が通っているイギリスの首都の名前を答えなさい。	
5 地球を北半球と南半球に分ける緯度0度の線を何といいますか。	
6 地球の表面積全体を10としたときの海洋と陸地の面積のおよその比率(海洋:陸地)を整数で答えなさい。	



上の世界地図のA~Cの海洋名とア~カの大陸名を書きなさい。

A	B	C
ア	イ	ウ
エ	オ	カ





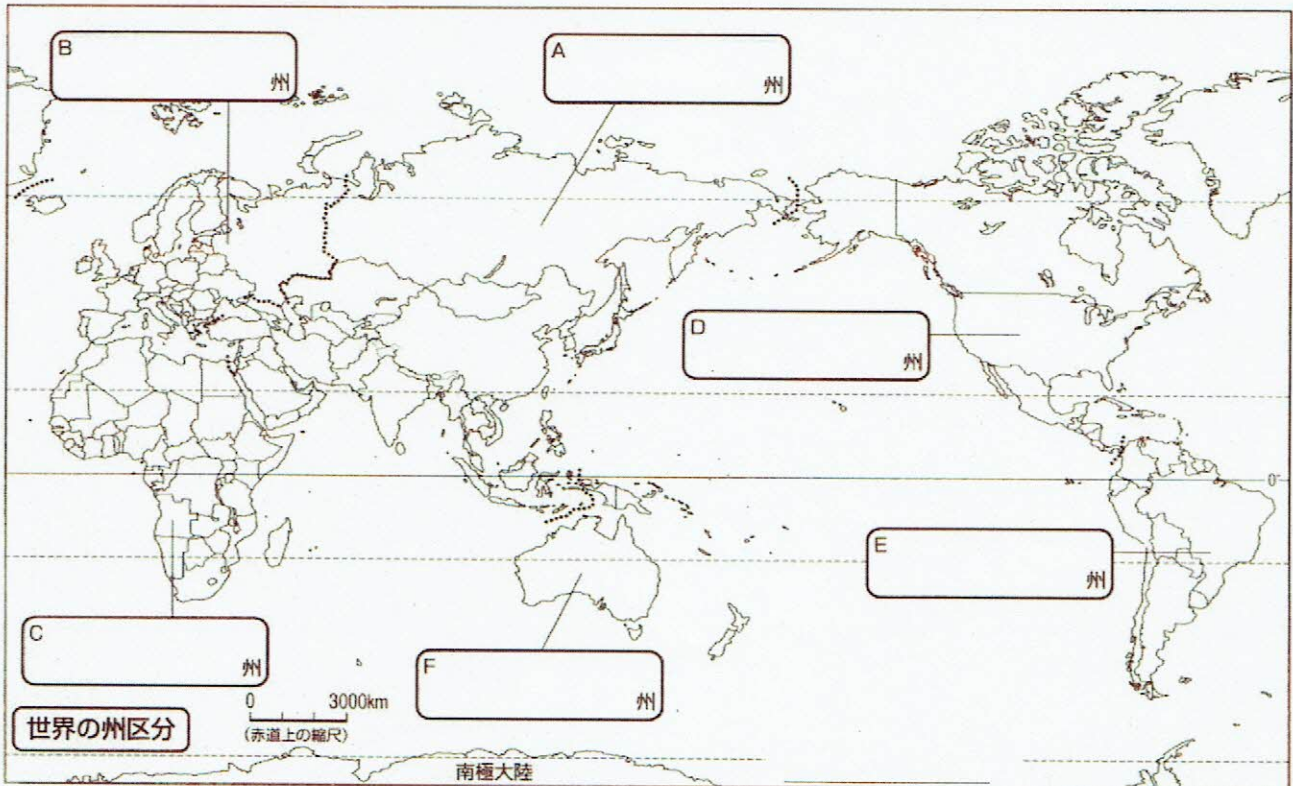
# 【地理2】 世界の姿②

名前

次の各問題の問の答えや ( ) にあてはまる語句を答えなさい。

問題	解答
1 マダガスカルやニュージーランドのように、海洋に囲まれた国を何といいますか。	
2 中央アフリカやモンゴルのように、国土が全く海に面していない国を何といいますか。	
3 世界で最も人口が多い国は、どこですか。	
4 世界で最も面積が大きい国は、どこですか。	
5 世界で最も面積が小さい国は、どこですか。	
6 政治や経済などのさまざまな面で、他国に支配されている地域を何といいますか。	
7 世界的な規模で広がっている三大宗教のうち、「聖書」を教典とする宗教を答えなさい。	
8 世界的な規模で広がっている三大宗教のうち、「経」を教典とする宗教を答えなさい。	
9 世界的な規模で広がっている三大宗教のうち、「コーラン」を教典とする宗教を答えなさい。	
10 インドで最も信者が多い宗教を答えなさい。	

下の地図のA～Fにあてはまる州の名称を答えなさい。







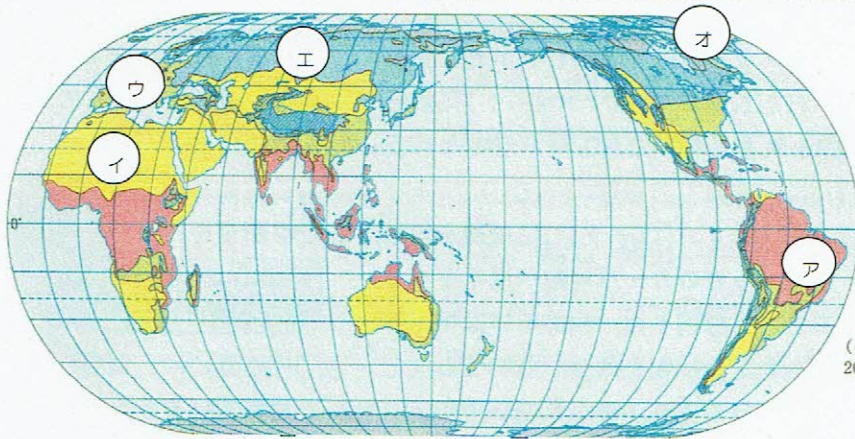
# 【地理3】 世界各地の人々と生活

名前

次の各問題の問の答えや ( ) にあてはまる語句を答えなさい。

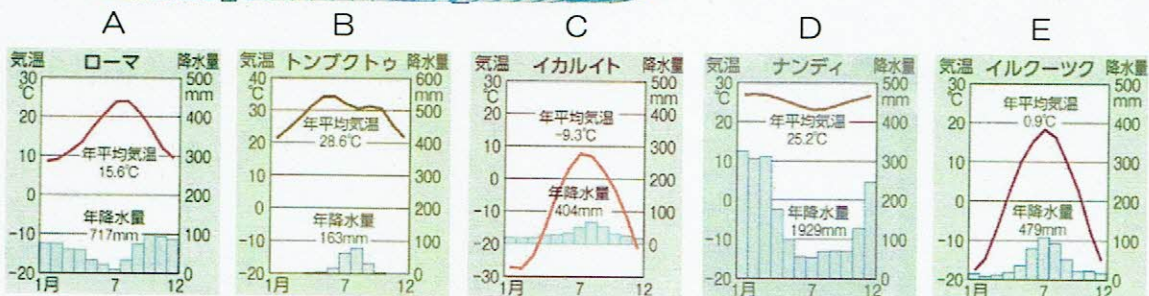
問題	解答
1 カナダ北部などで、昔からあざらしやカリブーの肉を食べたり、毛皮を衣服にしたりして暮らしてきた人々を何といいますか。	
2 冷帯の地域で見られる、寒さに強い松などの針葉樹の森林を何といいますか。	
3 温帯のうち、夏に乾燥する地中海の周辺で見られる気候を何といいますか。	
4 サハラ砂漠の南に接する、わずかに木や草が生える地域を何といいますか。 ※アラビア語で「岸边」の意味です。	
5 砂漠の中で地下水がわき出る場所を何といいますか。	
6 草原を焼きはらって畑を造り、焼いてできた灰を肥料として活用する農業を何といいますか。	
7 土地を休ませずに耕作や放牧を続けたり、たきぎなどを切りすぎたりすることで土地がやせ、植物が育たなくなってしまう環境問題を何といいますか。	
8 熱帯にあるうっそうとした森林を ( ) といい、その中にはグアバやマンゴー、バナナなどの果物の木も自然に生えている。	
9 同じ緯度の標高の低い地域よりも、気温が低くなる高山特有の気候を何といいますか。	

下の図のア～オにあてはまる気候帯の名称を答え、それぞれの気候帯のグラフ(雨温図)を選びましょう。



(「ディルケ世界地図」2010年版ほか)

	気候帯の名称	グラフ
ア		
イ		
ウ		
エ		
オ		





# 【地理 4】 世界の諸地域 名前



次の各問題の間の答えや ( ) にあてはまる語句を答えなさい。

問題	解答
1 アジア州の東アジアにおいて、タイやマレーシア、インドネシアなどの ( ) の国々は、アメリカや日本などの企業を受け入れて工業化を進めた。	
2 アジア州の西アジアは石油の産出量が多く、アラブ系の人々が多数を占めるアラブ諸国は ( ) などを通して結びついている。	
3 ヨーロッパ州の国々の統合のことを何というか答えなさい。経済的・政治的な統合が進んでいる。	
4 EUの中で使われる共通通貨を何というか答えなさい。	
5 アフリカ州などにおいて、限られた作物や資源の生産と輸出によって成り立つ経済を何というか答えなさい。	
6 北アメリカ州に属するアメリカにおいて、気温、降水量、土地などの自然条件に適した農作物が栽培されている。これを何というか答えなさい。	
7 アメリカにおいて、メキシコ、中央アメリカや西インド諸島などの国々などからやってきたスペイン語を話す移民は ( ) と呼ばれている。	
8 アフリカ州において、ヨーロッパ人と先住民との間の混血が進み、( ) などと呼ばれる混血の人が増えた。	
9 オーストラリアの先住民を何というか答えなさい。	
10 オーストラリアにおいて、鉱産物を地表から直接けずり取りながら渦を巻くようにして地中に掘り進む ( ) が行われている。	
11 世界各州をまとめた下の資料の(ア)～(ソ)に当てはまる語句を次の語群から選んで答えなさい。(移民・商品・オーストラリア・多文化・スペイン・EU・観光・奴隷・キリスト・植民地・アジアNIES・スペイン・キリスト・中国・英)	下の表に書き込む

ヨーロッパ州	
人口・人の移動	多くの(ア)加盟国の間では、人は自由に行き来できる。
文化	国内に複数の民族が存在。(イ)教が広がっている。
産業	自然環境に応じた多様な農業。世界に先がけて近代工業が発展。

アジア州	
人口・人の移動	人口が密集した地域が多い。多くの民族が生活している。
文化	(ウ)やインドの影響を受けた多様な文化。
産業	1970年代に、韓国、台湾などの(エ)と呼ばれる国や地域で工業化が進む。1990年代以降、(ウ)やインドなどでも工業化が進む。

北アメリカ州	
人口・人の移動	世界各地から(オ)が流入。
文化	アメリカやカナダでは主に(カ)語、そのほかの国では(キ)語が話されている。
産業	アメリカは農業、工業ともに発達。メキシコなどは農業が重要な産業。

アフリカ州	
人口・人の移動	ナイル川沿岸は人口密度が高い。農村から都市へ人口が移動。
文化	公用語が(ク)時代の旧本国の言語である国が多い。民族独自の多様な文化。
産業	(ケ)作物や鉱産資源を輸出。



南アメリカ州	
人口・人の移動	(セ)としてアフリカの人々が連れてこられる。(ソ)人、ポルトガル人が先住民と混血。
文化	ヨーロッパの文化と先住民の文化が混じり合う。
産業	大規模な農業が盛ん。地下資源の開発と工業化。

オセアニア州	
人口・人の移動	祖先はユーラシア大陸から移住してきた人々が多く、18世紀以降はヨーロッパ諸国が進出。
文化	(コ)教が多数。多様な民族が共存し、それぞれの文化を尊重する(サ)社会を目指す。
産業	(シ)は鉱産物・農産物を輸出。島々は(ス)業の収入が増加。

ア	イ	ウ	エ	オ
カ	キ	ク	ケ	コ
サ	シ	ス	セ	ソ



# 【地理5】 時差

名前



次の各問題の答えや ( ) にあてはまる語句を答えなさい。

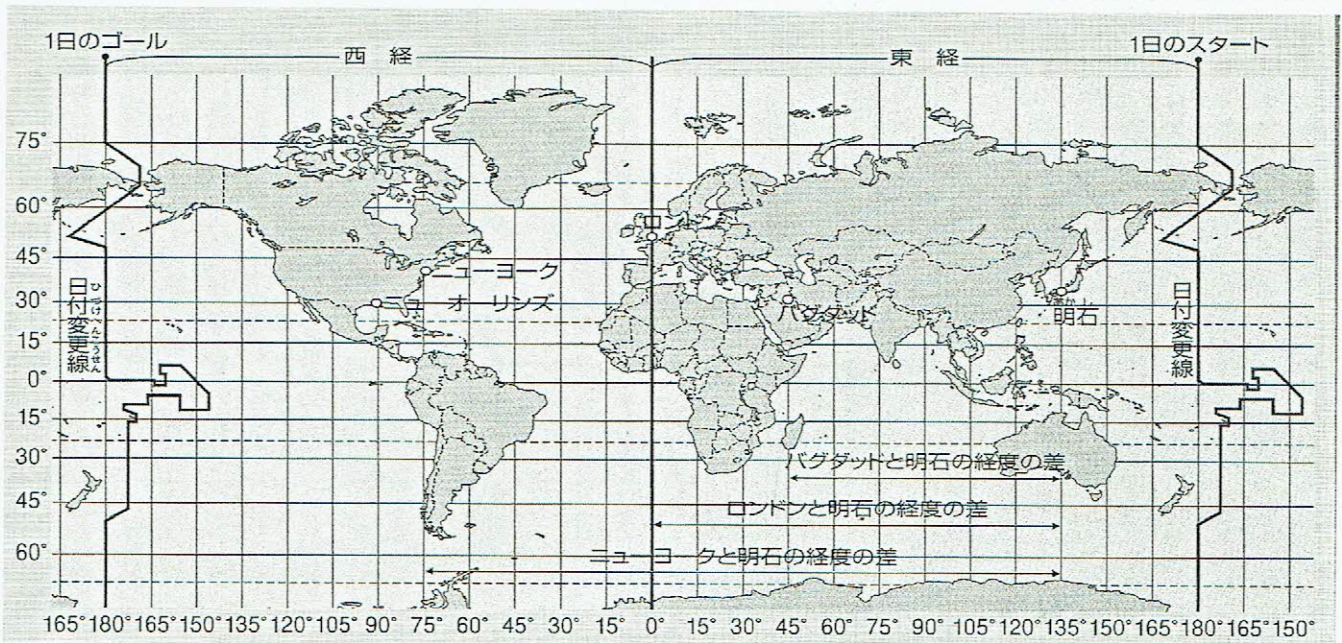
問題	解答
1 1日は(ア)時間。	
2 地球は24時間で1回転=(イ)度回る。	
3 経度(ウ)度で、1時間の時差が生まれる。	
4 経度0度の線を何というか答えなさい。	
5 経度0度の線の反対側にある、1日の始まりと終わりの線を何というか。	
6 ロンドン(経度0度)と、日本(東経135度)の時差を求めなさい。	
7 ロンドン(経度0度)と、ニューヨーク(西経75度)を求めなさい	
8 バグダッド(東経45度)と、日本(東経135度)の時差を求めなさい。	
9 ニューヨーク(西経75度)と、サンフランシスコ(西経120度)の時差を求めなさい。	
10 日本(東経135度)と、ニューヨーク(西経75度)の時差を求めなさい。	
11 バグダッド(東経45度)と、サンフランシスコ(西経120度)の時差を求めなさい。	

地図を見て、問いに答えなさい。

問12 1日が先に始まるのは、ニューヨークとバグダッドのどちらですか。

問13 ニューヨークが1月1日午前8時のとき、明石は何月何日ですか。

午前または午後をつけて答えなさい。



# 【地理6】 日本の領域・領土問題

名前



次の各問題の問の答えや ( ) にあてはまる語句を答えなさい。

	問題	解答
1	日本の北端にある島の名称を答えなさい。	
2	日本の南端にある島の名称を答えなさい。	
3	日本の東端にある島の名称を答えなさい。	
4	日本の西端にある島の名称を答えなさい。	
5	ロシアとの間に領土問題が発生している日本固有の領土を何というか。	
6	韓国との間に領土問題が発生している日本固有の領土を何というか。	
7	中国との間に領土問題が発生している日本固有の領土を何というか。	
8	国家の主権が及ぶ範囲を何というか。	
9	国家の主権が及ぶ範囲は、領土、領海、(ア)である。	
10	領海や経済水域の外側にあたる、各国が自由に使用できる海域を何というか。	

## 問11

写真の島は2の島である。海に島が沈まないよう護岸工事が行われました。その目的を簡単に書きなさい。



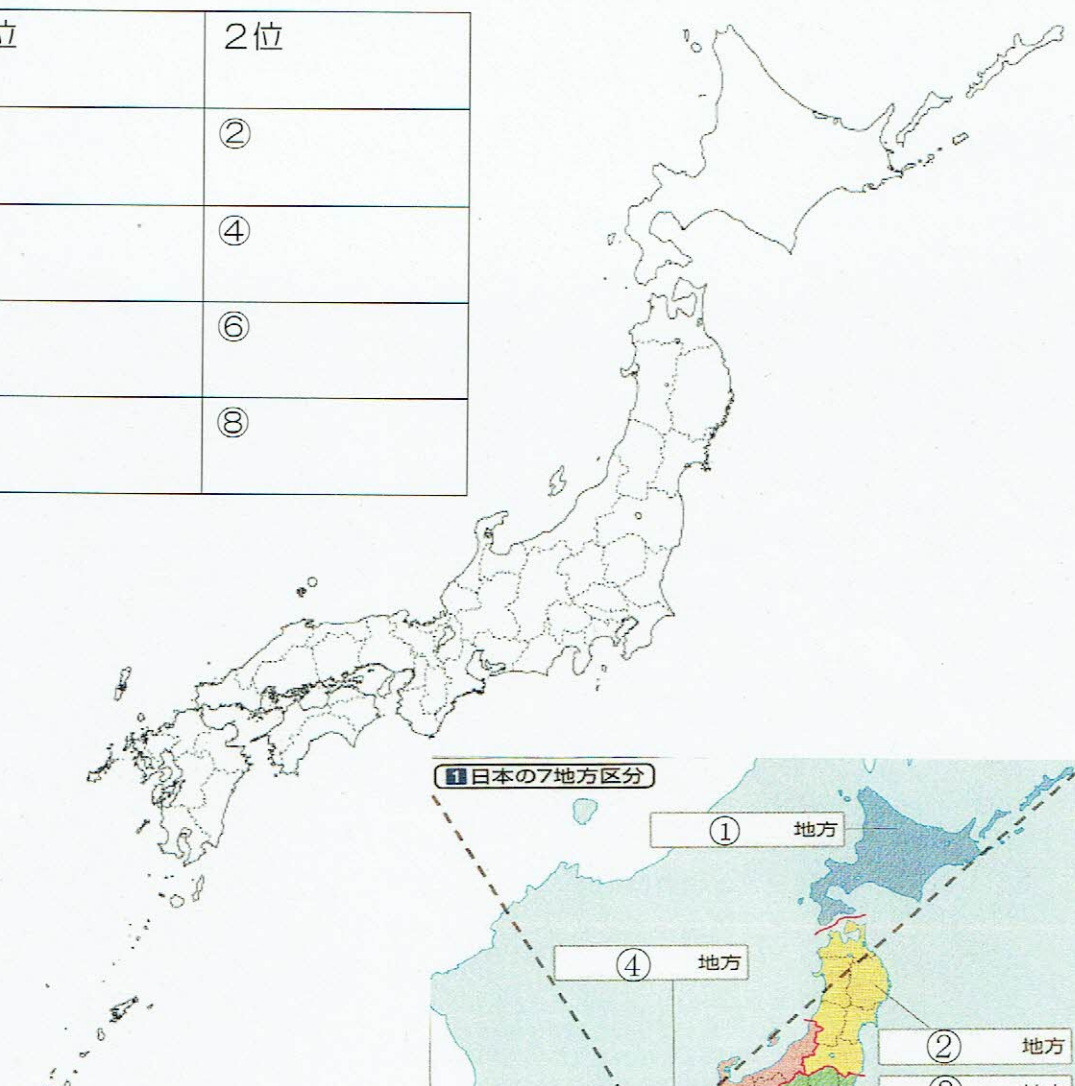
# 【地理 7】 都道府県・地方区分 名前



次の各問題の間の答えや ( ) や表にあてはまる語句を答えなさい。

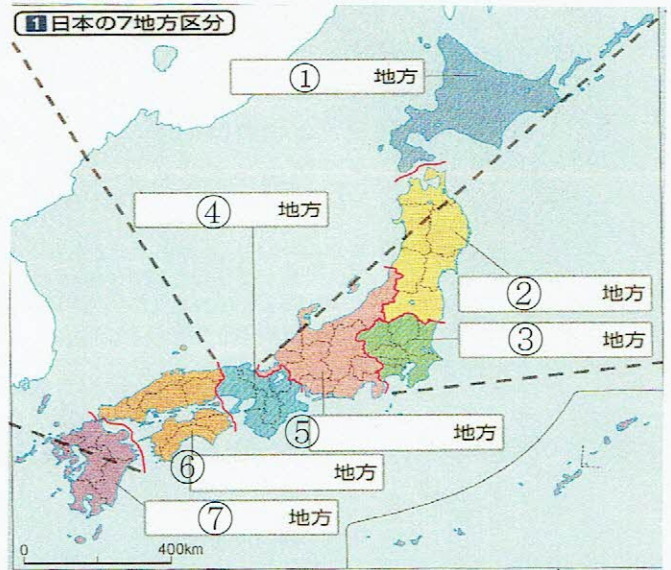
(1) 下の表に当てはまる都道府県名を書き、その都道府県の位置を地図の中に表内の番号で記入しなさい。

47都道府県 の中で ↓	1位	2位
面積が大きい	①	②
面積が小さい	③	④
人口が多い	⑤	⑥
人口が少ない	⑦	⑧



(2) 右の地図中の①～⑦の地方名を書きなさい。

①	地方	⑤	地方
②	地方	⑥	地方
③	地方	⑦	地方
④	地方		







## 【地理 8】 世界から見た日本の姿

次の各問題の問いや ( ) に当てはまる語句を答えなさい。

問題	解答	
1 世界には、地震や火山の活動など、大地の動きが活発な地域が帯状に連なった地域がある。このような場所を何というか答えなさい。		
2 アフリカ大陸やオーストラリア大陸のように、長い間地震や火山の活動がほとんど起こらない安定した大地を ( ) という。		
3 川の流れや雨、風によって大地がけずられることを ( ) といい、この作用によって地形が平坦になっている。		
4 日本列島を東西2つに分ける地溝帯のことを何というか、答えなさい。		
5 日本の中央部には山がちな地域が広がっており、中でも飛騨・木曾・赤石山脈は ( ) と呼ばれている。		
6 日本の海岸には、岩場が崖のように切り立った ( 海岸) と、一面砂におおわれた砂浜海岸がある。		
7 三陸海岸や志摩半島のように入り組んだ地形をしている海岸をなんというか、答えなさい。		
8 日本列島の近海の海底には、海外線に沿うように深さ200mまでの ( ) があり、プランクトンが多く好漁場で、地下資源も豊富である。		
9 日本の多くの都市は、海に面した平野や、内陸にあって山に囲まれた ( ) といった平らな土地に造られた。		
10 ( ) は川が山間部から平野に出たところに土砂がたまって造られる扇形の地形である。		
11 ( ) は川が海や大きな湖へ流れ込むところに細かい土砂がたまってできた地形である。		
12 資料A中の①・②の名称をそれぞれ答えなさい。	① ②	
13 資料B中の③から⑥の海流の名称を答えなさい。	③	④
	⑤	⑥
14 資料Cから読み取ったことを次の文章にまとめた。適切な選択肢を○で囲みなさい。 日本の河川は世界の大陸の川と比べて流域面積が(ア狭く・イ広く)、流れが(ア急・イ緩やか)である。		

