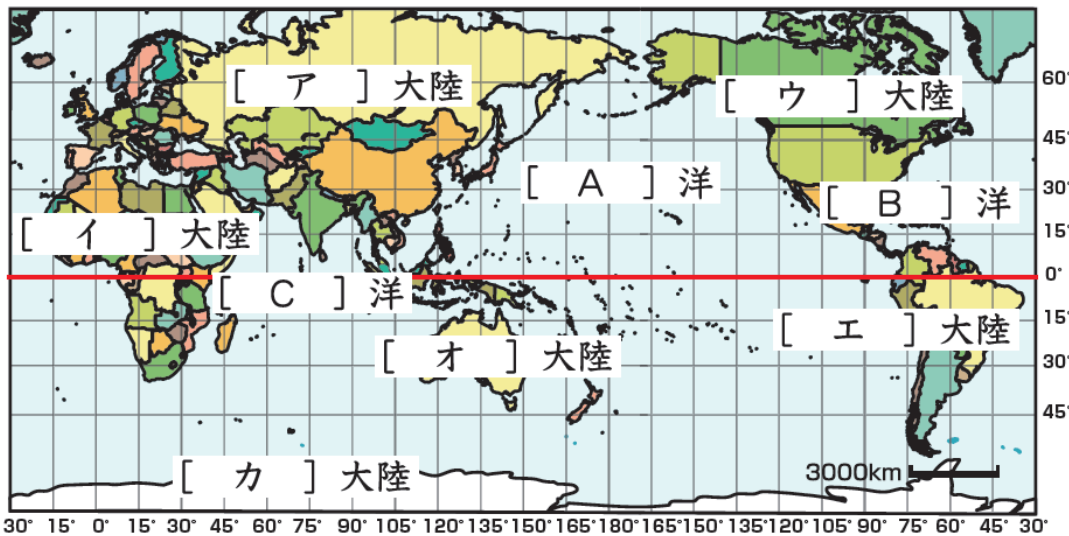


1年生社会科 臨時休校中 課題プリント①

社会科担当内田より

この度、臨時休校が長引いてしまい、社会の課題を追加で作成することになりました。このプリントは中学1年生の範囲です。まだ授業もできない状態ですが、予習プリントという形になってしまい申し訳ありません。内容としては、簡単なものを選びました。教科書・地図帳で調べればわかる内容だと思います。授業が始まりましたら、今回のプリントの内容にも触れますので、安心してください。また、今回の範囲の内容については、授業開始したらこのプリントの内容を小テストで出題しますので（成績の参考にさせていただきます）、プリントをやって終わりではなく、家庭学習ノート等で繰り返し勉強してください。

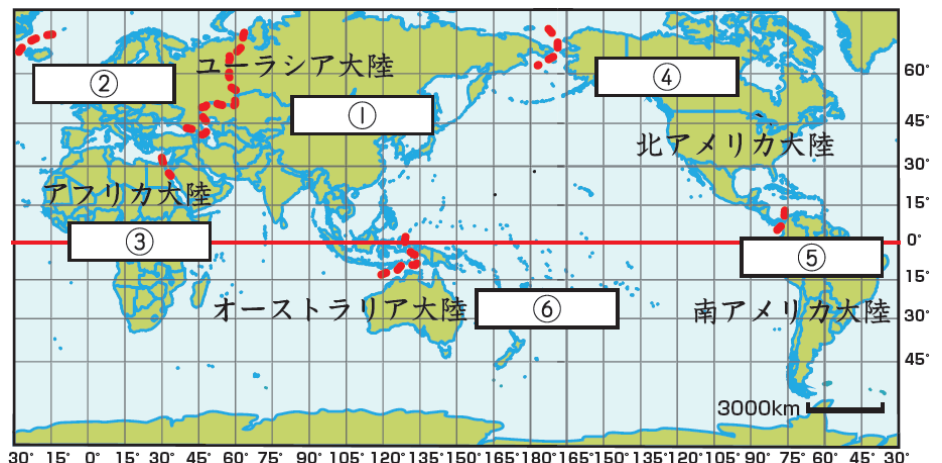
1. ア～カの大陸名とA～Cの海洋名は何ですか？（教科書p7）



ア	大陸	イ	大陸	ウ	大陸
エ	大陸	オ	大陸	カ	大陸
A	洋	B	洋	C	洋

2. ①～⑥の空欄に当てはまる州を書きなさい。（教科書p12）

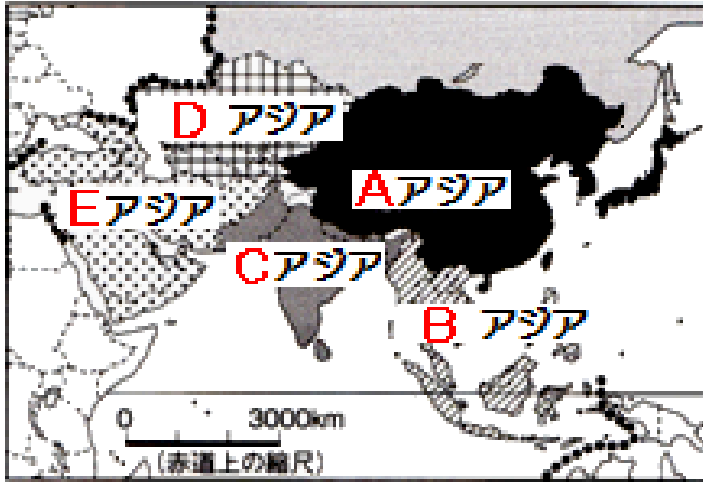
①	州
②	州
③	州
④	州
⑤	州
⑥	州



1年生社会科 臨時休校中 課題プリント②

1年 組 番 氏名

3. アジア州を細かく分類すると以下のA～Eになります。(教科書p13)
A～Eに当てはまる語句とそこに属する国を地図帳(p19)で調べていくつか書いてみよう。



記号		
A		
B		
C		
D		
E		

4. 練習問題：次の表の国や都市についてどの大陸どの州に属しているか。
地図帳のさくいん(p165～168)で調べてみよう。

国・都市名	大陸名	州名
ニューヨーク	大陸	州
ブラジル	大陸	州
エジプト	大陸	州
シドニー	大陸	州
バルセロナ	大陸	州
インド	大陸	州

5. 地図帳の統計資料(p158～160)で次の項目に当てはまる国名を書いてみよう。

順位	人口	面積	人口密度
1位			
2位			
3位			
4位			
5位			

※ちなみに世界で一番小さい国は… ()

1年生社会科 臨時休校中 課題プリント③

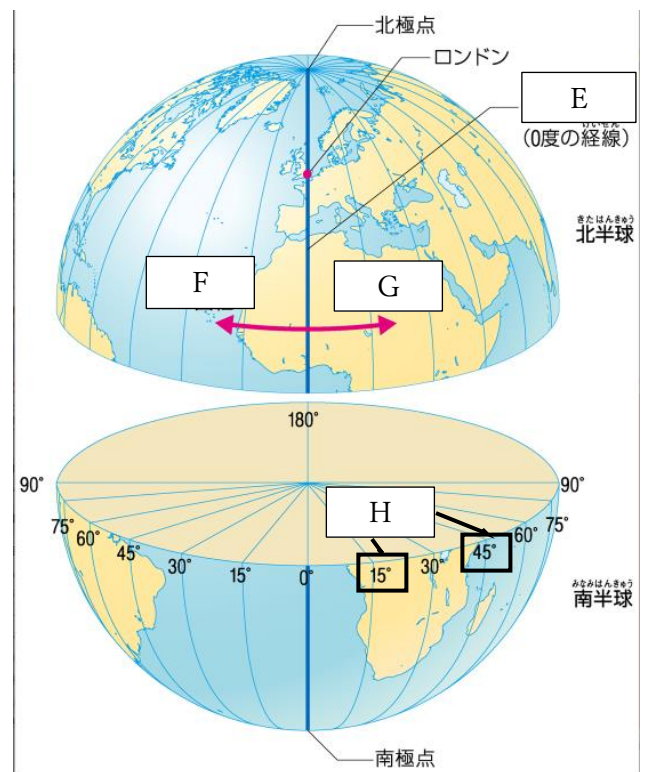
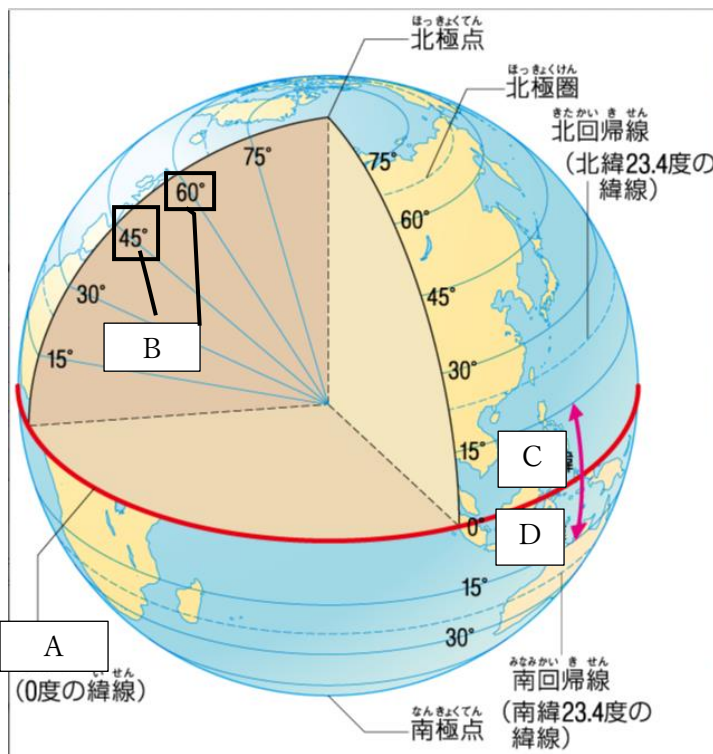
1年 組 番 氏名

6. 次の当てはまる文章の空欄に当てはまる語句を教科書で調べて埋めてみよう。また、図の中の空欄も埋めてみよう。
(教科書 p 10)

・地球上の国や都などの位置は、【①】と【②】であらわすことができます。

・【①】は【③】を0度として、地球を南北にそれぞれ90度に分けたものです。【③】より北を【④】、南を【⑤】といいます。同じ【①】で結んだ線を【⑥】(地図でいうと横線です)といい、【③】と平行になっています。

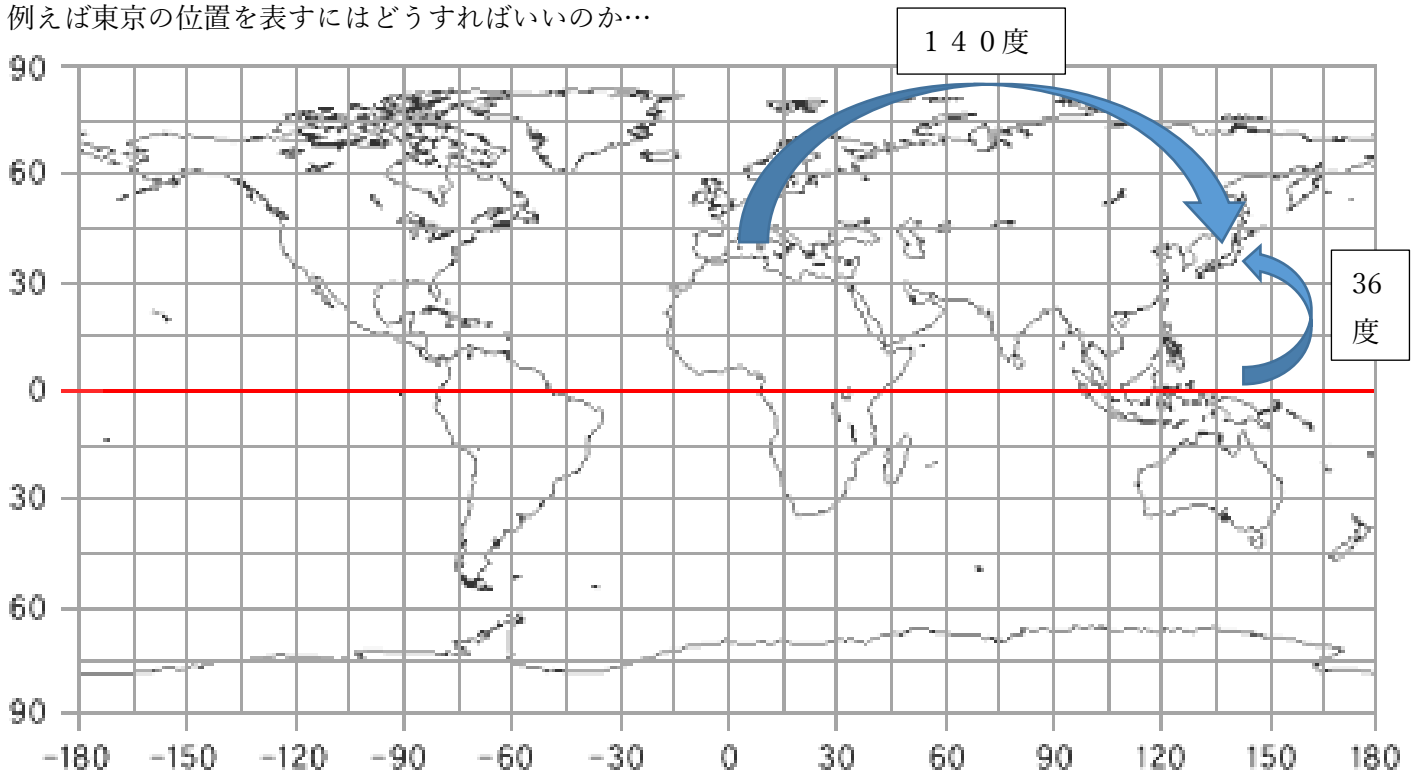
・【②】は、イギリスのロンドンを通る【⑦】を0度として、地球を東西それぞれ180度に分けたものです。【⑦】より東側を【⑧】、西側を【⑨】といいます。同じ【②】を結んだ線を【⑩】といい、北極点と南極点を結んで、【③】と直角に交わります。



A		B	
C		D	
E		F	
G		H	

続き

例えば東京の位置を表すにはどうすればいいのか…



- ・東京は赤道より北に36度離れているので、「北緯36度」
 - ・東京は本初子午線より東に140度離れているので「東経140度」
- ⇒東京の位置は「北緯36度 東経140度」と表すことができる。
- この緯度と経度は一点で交わる。

練習問題

① 地図帳を使って次の緯度、経度で表される都市の名前を調べてみよう。

緯度	経度	都市	緯度	経度	都市
北緯15度	東経120度		北緯45度	西経75度	
南緯15度	東経28度		南緯35度	西経70度	

② 自分の好きな都市を4つ選んで、地図帳でその都市の緯度と経度を調べてみよう。

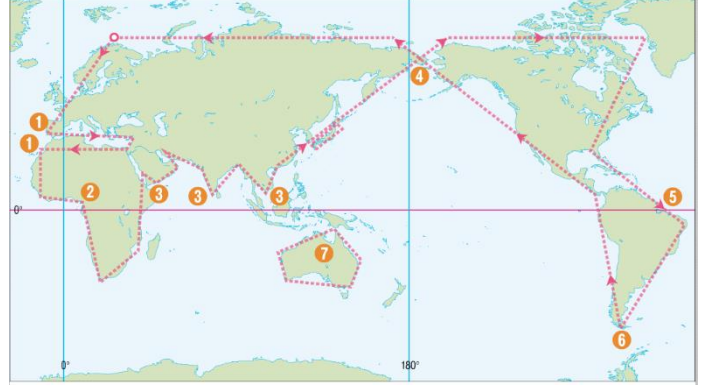
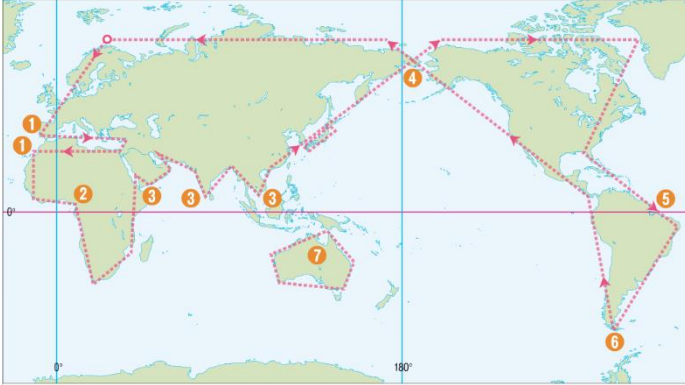
緯度	経度	都市	緯度	経度	都市

1年生社会科 臨時休校中 課題プリント④

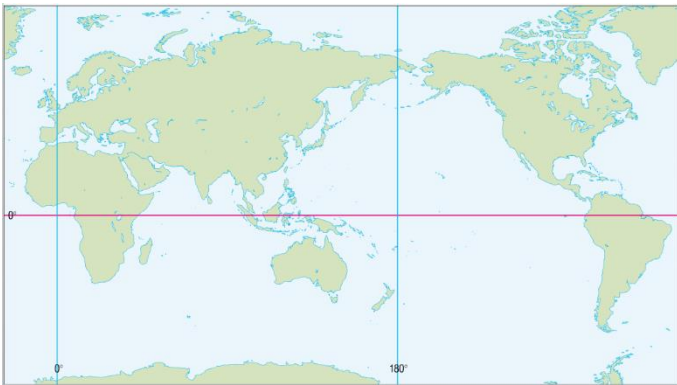
1年 組 番 氏名

7. 世界の略地図を書いてみよう。(教科書 p 13) 自主勉ノートにも何回か書いてみよう。

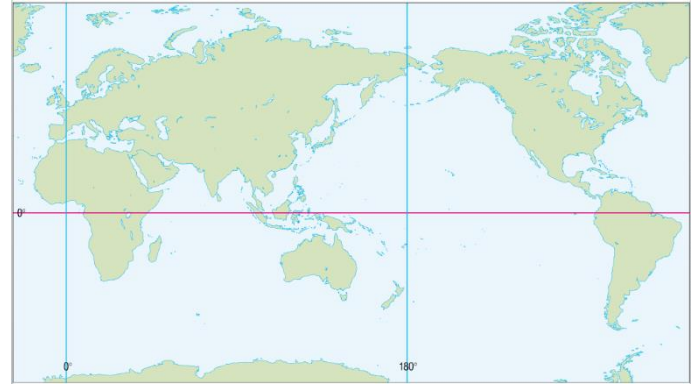
1回目 (線をなぞろう)



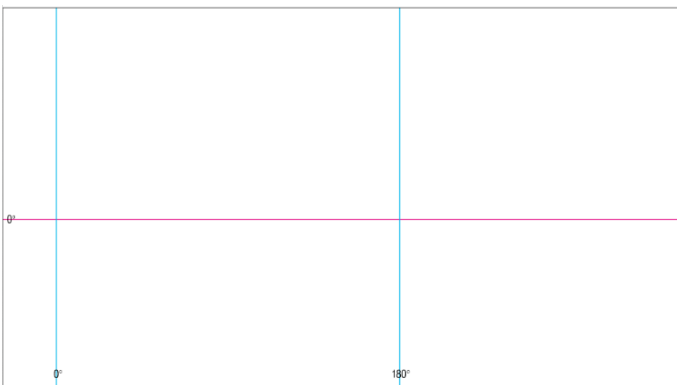
2回目 (上を参考に書いてみよう)



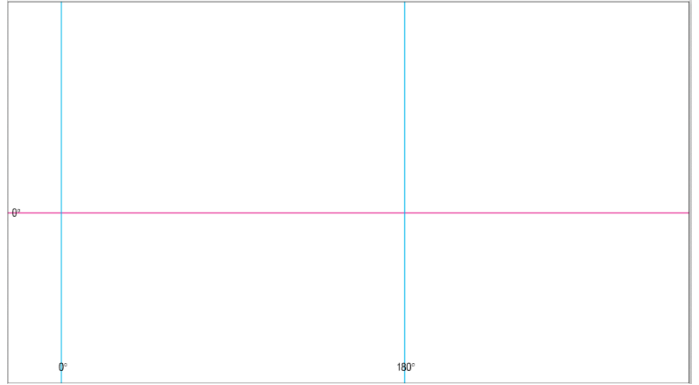
3回目 (上を参考に書いてみよう)



4回目 (赤道と本初子午線を参考に書いてみよう)



5回目 (赤道と本初子午線を参考に書いてみよう)



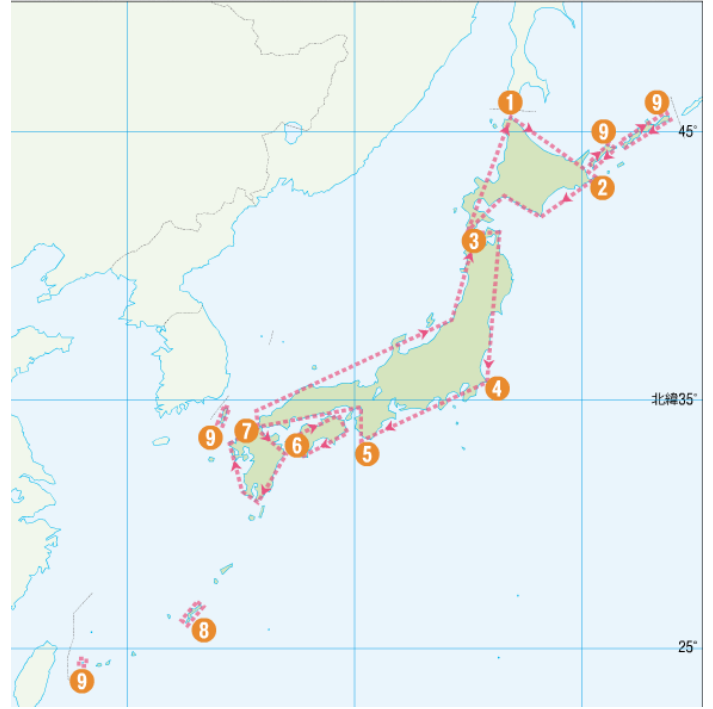
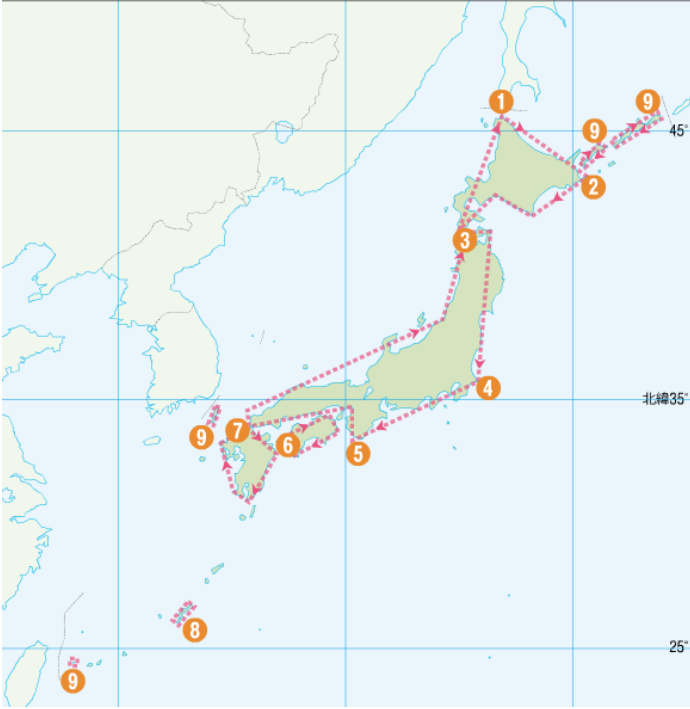
6回目以降は自主勉ノートに書いてみよう。何も見ないで書けるようになると GOOD です。

1年生社会科 臨時休校中 課題プリント⑤

1年 組 番 氏名

8. 日本の略地図を書いてみよう。(教科書 p 137) 自主勉ノートにも何回か書いてみよう。

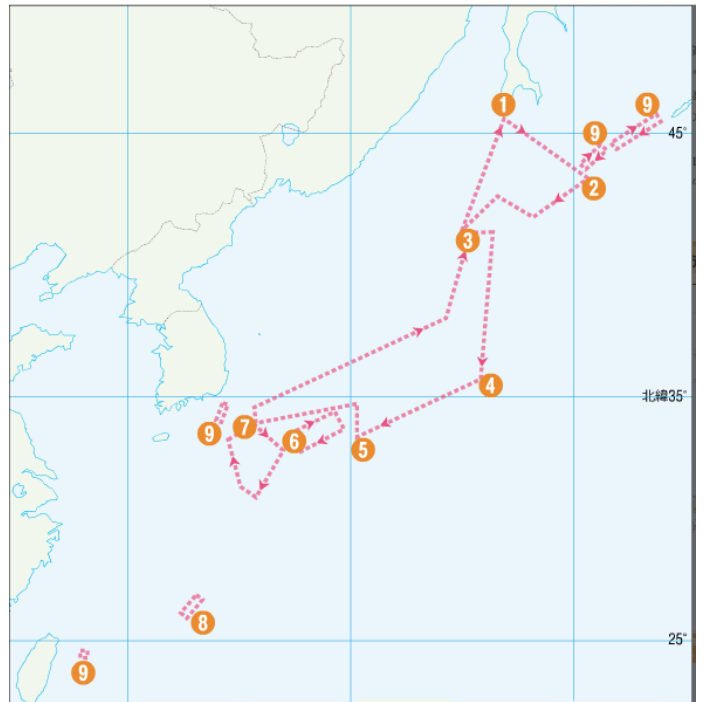
1回目 (なぞってみよう)



2回目 (上を参考に書いてみよう)



3回目 (上を参考に書いてみよう)

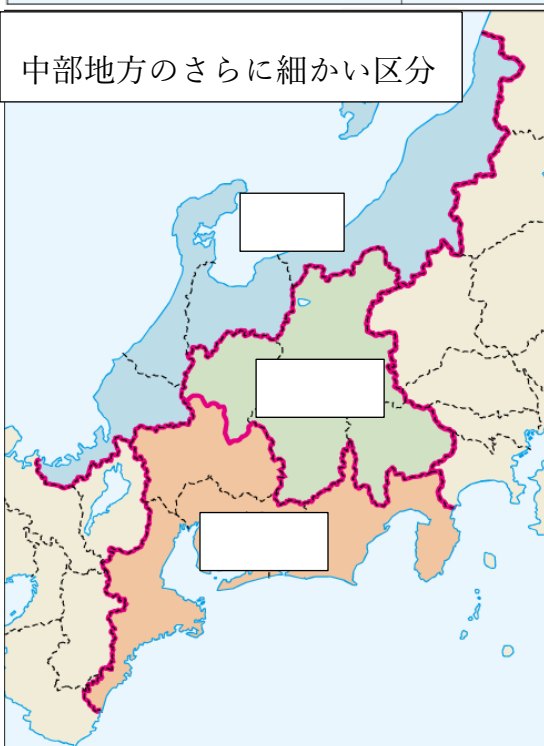
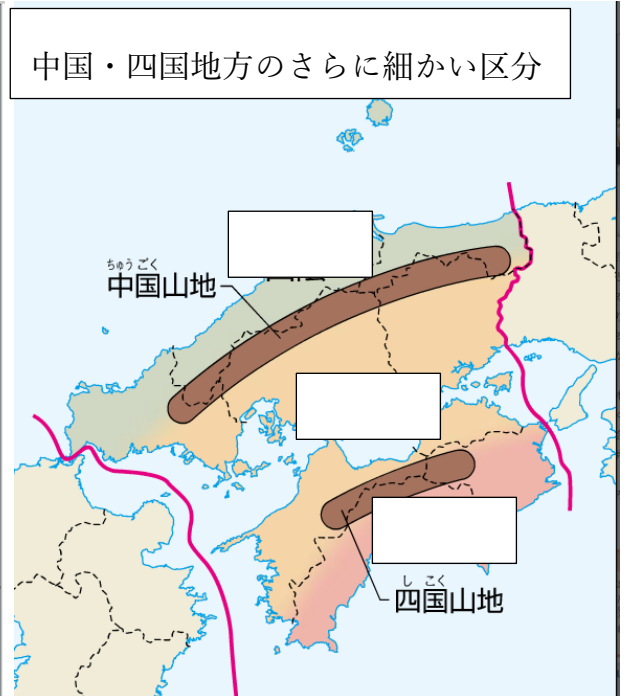
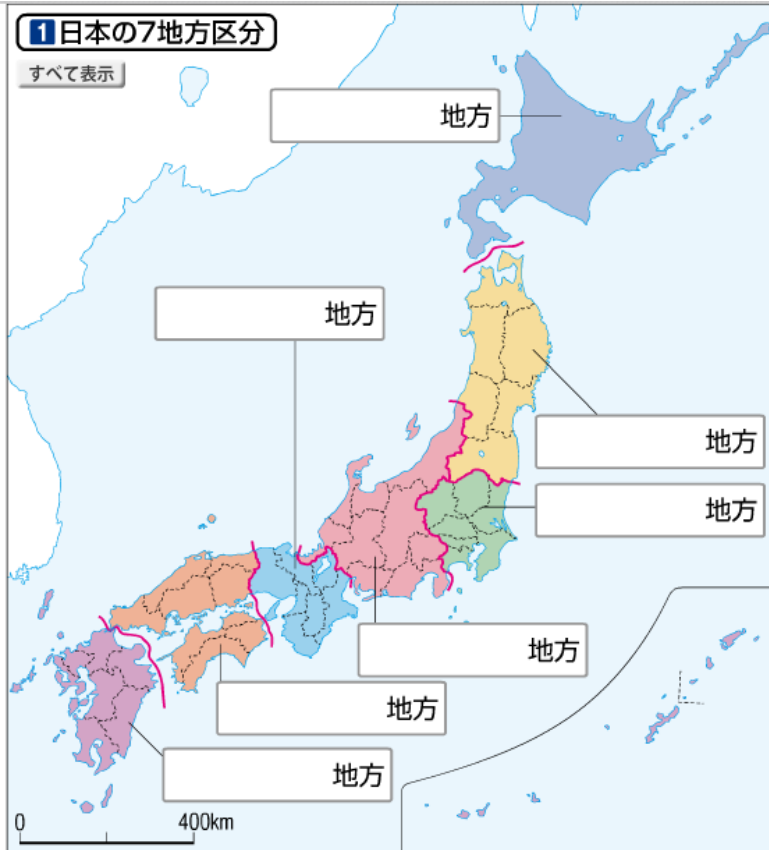


1年生社会科 臨時休校中 課題プリント⑤

1年 組 番 氏名

9. 日本の地域区分について学習しよう！（教科書 p 138）

日本は7つの地方に分かれています。さらにそれぞれの地方も細かく分けられていることがあります。教科書で調べて空欄を埋めてみましょう。プリントに埋めるだけでなく、自主勉ノートを使って繰り返し学習してみよう。

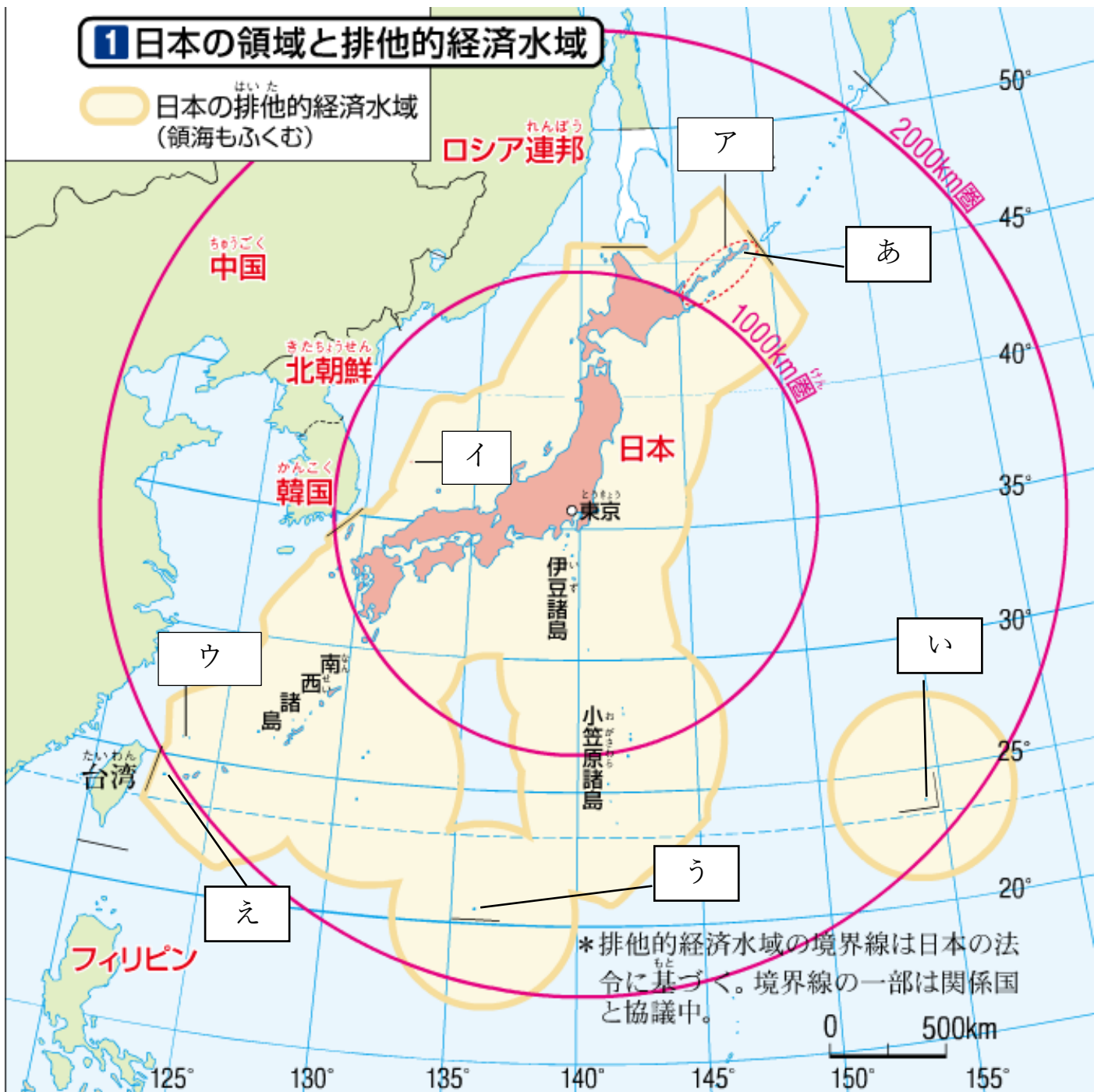


練習問題①：次の都道府県が属する地方名を地図帳で調べて書いてみよう。

都道府県	地方名
北海道	地方
岩手県	地方
大分県	地方
鳥取県	地方
京都府	地方
岐阜県	地方
埼玉県	地方

練習問題②：自分の行ってみたい都道府県を書いて、そこがどこの地方なのか書いてみよう。

都道府県	地方名
	地方
	地方
	地方
	地方



練習問題①：地図中のあ～えは日本で最も東、西、南、北に位置する島です。あ～えのそれぞれの名称と位置を右の表に書いてみよう。

	位置 (記号)	名称
東端		
西端		
南端		
北端		

練習問題②：地図中のア～ウは、日本が他の国と領有権 (どっちの国のものか) をめぐって問題が起きています。ア～ウの名称と、どこの国と問題が起きているのかを教科書で調べて埋めてみましょう。

記号	名称	国名
ア		
イ		
ウ		

